

Списки



Список – это перечисление элементов.

Списки часто применяют для оформления текстов.

**Каждый элемент списка отмечается значком
(маркером) или номером.**

Виды списков:

- **Маркированный**
- **Нумерованный**
- **Многоуровневый**

Маркированный список

В маркированном списке слева от каждого элемента изображен значок – маркер.

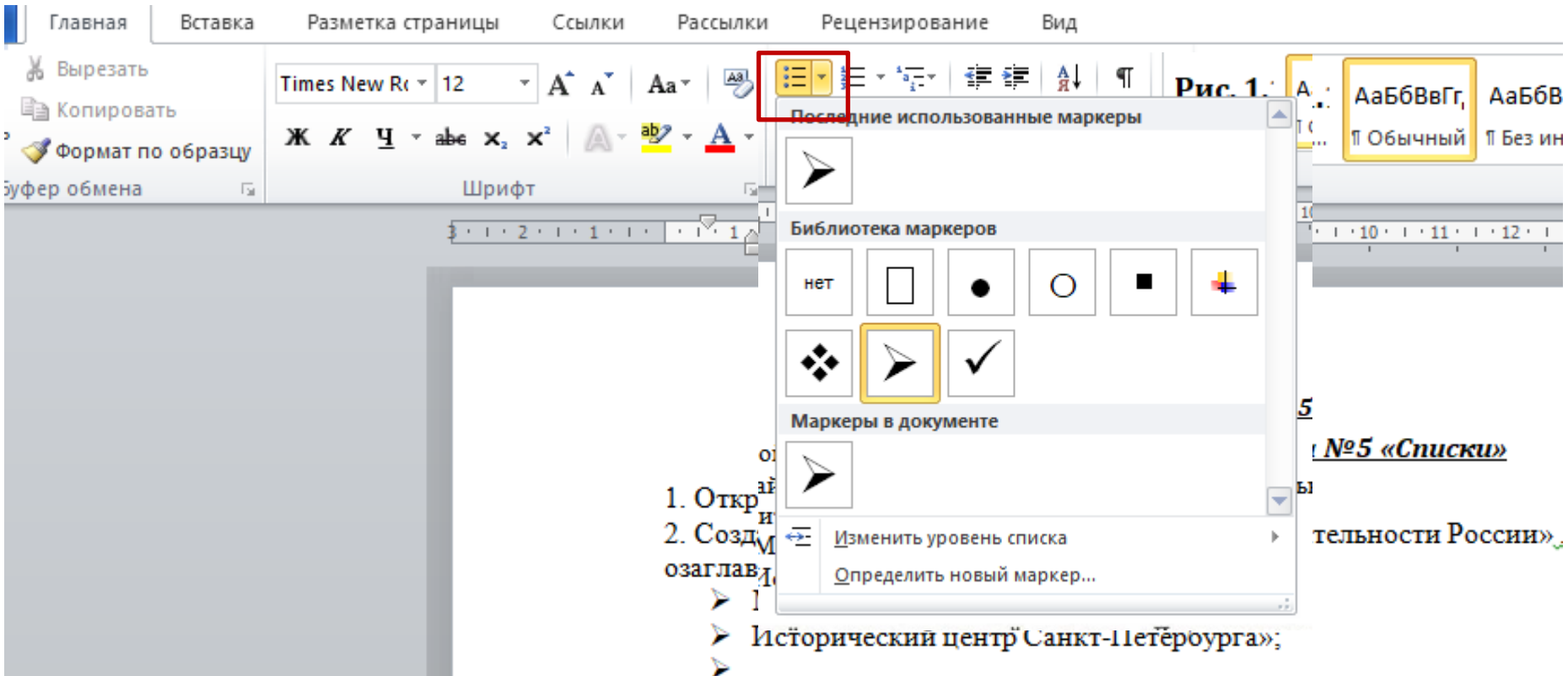
Маркированные списки используют в том случае, когда порядок перечисления элементов не важен.

Маркером может быть любой символ из любого шрифта. Часто в качестве маркера используют жирную точку.

*По-английски этот символ называется **bullet** – «пуля»*

Фигуры:

- отрезок
- ломаная
- прямоугольник
- окружность



Нумерованный список

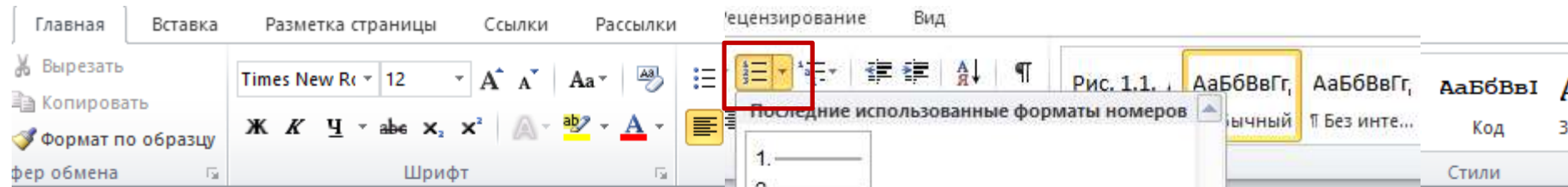
Нумерованный список – это список, в котором слева от каждого элемента стоит порядковый номер.

Нумерованные списки используются тогда, когда порядок перечисления элементов важен.

Для нумерации элементов списка можно использовать числа (записанные арабскими или римскими цифрами) и буквы латинского или русского алфавита.

Строительство дома:

- 1) Залить фундамент.
- 2) Построить стены.
- 3) Сделать крышу.
- 4) Отделать помещения.



1. Откройте
2. Создайте
- озаглавить с
1. Моск
2. Исто
3. |

Списки»

ости России». Не забудьте

тельности Росси
из следующего

Многоуровневый список

Многоуровневый список – это список, в котором есть несколько уровней.

На каждом уровне может быть своя нумерация (или маркеры).

Крупнейшие города:

I. Европа

- а) Москва
- б) Лондон

II. Азия

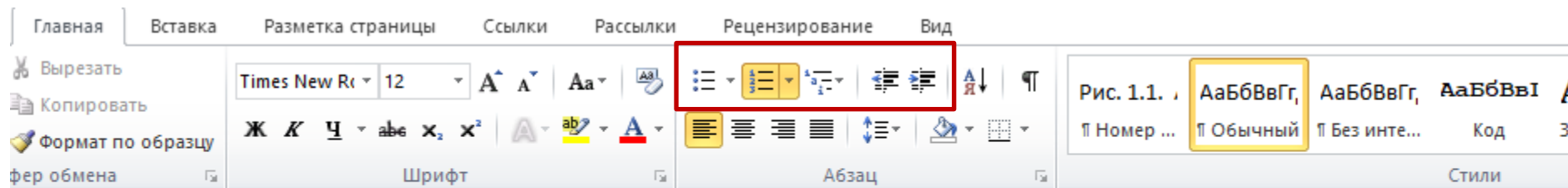
- а) Шанхай
- б) Пекин

Многоуровневый список

Для того чтобы распределить элементы по уровням, используют кнопки:

 — повысить уровень;

 — понизить уровень.



Практическая работа №5 «Списки»

1. Откройте новый документ Word.
2. Создайте нумерованный список «Достопримечательности России». Не забудьте озаглавить список.
 1. Московский Кремль и Красная площадь;
 2. Исторический центр Санкт-Петербурга»;
 3. |

Вычислить размер букв в мм, если текст набран шрифтом размером 13 пт.

1 пт = 1 / 72 дюйма, 1 дюйм = 25,4 мм

13 пт = $13 \cdot 25,4 / 72$ мм \approx 4,586 мм

Ответ: 4,586 мм.